



Tento pracovní list patří

## Vlk obecný

Samoobslužný pracovní list  
pro žáky 1. stupně ZŠ



Vlk obecný patří do řádu šelem. Ten je pak dělen na čeledi. Do které čeledi patří vlk? Zakroužkuj správnou odpověď.

1. lasicovití

2. kočkovití

3. psovití

4. medvědovití



Vymaluj tyto stopy tak, aby stopa vlka byla hnědá, kuny zelená, vydry modrá a stopa medvěda červená.



Vlci mají různé barevné varianty od světlých až po tmavé. Vypiš, jaké barvy se mohou vyskytovat na srsti vlka.

bílá, černá, různé odstíny šedé,

různé odstíny hnědé, různé odstíny rezavé,

zlatavé a stříbrné odstíny



Vlci se mezi sebou dorozumívají nejen štěkáním, vrčením a vytím, ale i držením těla a obličejovou mimikou. Přiřaď k obrázku, co na něm vlk vyjadřuje.

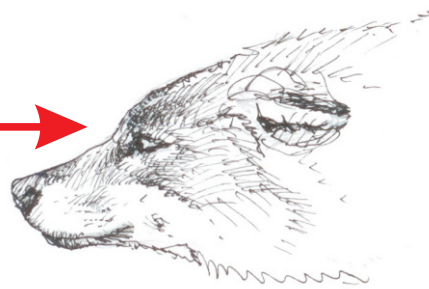


podřízenost s hrozbou

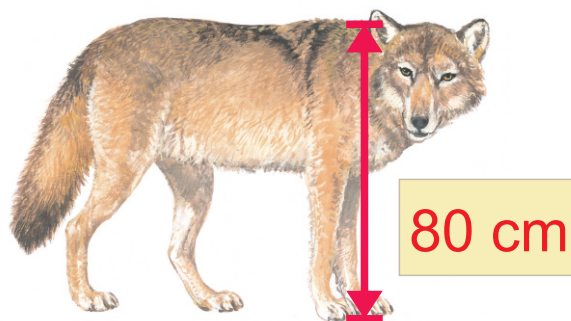

podřízenost bez hrozby

sebejistota s hrozbou

sebejistota bez hrozby



Napiš do závaží, kolik kilogramů může vážit dospělý jedinec a do jaké výšky v kohoutku může dorůst?



Potrava vlka obecného je rozmanitá. Víš, čím se živí? Doplň do tajenky, co vidíš na obrázku.



1	T	R	Á	V	A		
2	J	E	L	E	N		
3	J	E	Ř	Á	B	E	K



4	B	O	R	Ů	V	K	A	
5	B	O	B	R				
6	T	E	T	Ř	Í	V	E	K



7	Z	A	J	Í	C	
8	M	A	L	I	N	A



9	M	Ý	Š	I	C	E
---	---	---	---	---	---	---